

## GABARITO - ENSINO TÉCNICO MODULAR

**Prova 16/06/2024**

QUESTÃO	ALTERNATIVA
1	C
2	B
3	A
4	D
5	E
6	B
7	A
8	D
9	B
10	E
11	C
12	D
13	A
14	C
15	E
16	C
17	A
18	E
19	B
20	E

QUESTÃO	ALTERNATIVA
21	C
22	B
23	A
24	E
25	D
26	C
27	A
28	D
29	D
30	B
31	E
32	C
33	B
34	E
35	C
36	D
37	E
38	E
39	B
40	A

## LÍNGUA PORTUGUESA

Leia o texto a seguir para responder às questões **1 a 3**.

Aos treze anos de minha idade, e três da sua, separamo-nos, o meu cajueiro e eu. Embarco para o Maranhão e ele fica. Na hora, porém, de deixar a casa, vou levar-lhe o meu adeus. Abraçando-me ao seu tronco, aperto-o de encontro ao meu peito. A resina transparente e cheirosa corre-lhe do caule ferido. Na ponta do ramo mais alto abotoam os primeiros cachos de flores miúdas e arroxeadas, como pequeninas unhas de criança com frio.

– Adeus, meu cajueiro! Até a volta!

Ele não diz nada, e eu me vou embora.

Da esquina da rua, olho ainda, por cima da cerca, a sua folha mais alta, pequenino lenço verde agitado em despedida. E estou em São Luís, homem-menino, lutando pela vida, enrijando o corpo no trabalho bruto e fortalecendo a alma no sofrimento, quando recebo uma comprida lata de folha acompanhando uma carta de minha mãe: “Receberás com esta uma pequena lata de doce de caju, em calda. São os primeiros cajus do teu cajueiro. São deliciosos, e ele te manda lembranças”.

(CAMPOS, Humberto de. Memórias. São Luís: Instituto Geia, 2009.)

**Questão 1** – Assinale a frase retirada do texto que revela quem é o amigo do narrador do qual ele se despede ao ir embora para São Luís.

- a) Na hora, porém, de deixar a casa vou levar-lhe o meu adeus.
- b) A resina transparente e cheirosa corre-lhe do caule ferido.

- c) Aos treze anos de minha vida, e três de sua, separamo-nos, o meu cajueiro e eu.
- d) Abraçando-me ao seu tronco, aperto-o de encontro ao meu peito.
- e) Ele não diz nada, e eu vou-me embora.

**Questão 2** – Sobre o texto é correto afirmar que:

- a) a expressão “homem-menino” significa que o narrador partiu de sua cidade para trabalhar e cursar a universidade em uma grande metrópole.
- b) no último parágrafo, verbos como “lutando”, “enrijando” e “fortalecendo” estão no gerúndio.
- c) a mãe, embora atenciosa e saudosa, não percebeu a relação de amizade entre o filho e o cajueiro.
- d) na frase “Adeus, meu cajueiro!” temos a fala de uma terceira pessoa, que não participa dos fatos narrados.
- e) segundo a carta da mãe do narrador, o cajueiro foi incapaz de mostrar qualquer sentimento.

**Questão 3** – Qual o recurso linguístico que a palavra grifada na seguinte passagem expressa?

“Na ponta do ramo mais alto abotoam os primeiros cachos de flores miúdas e arroxeadas, **como** pequeninas unhas de criança com frio.”

- a) comparação
- b) exagero
- c) ironia
- d) negação
- e) dúvida

**Questão 4** – A embalagem de determinada sopa traz as seguintes instruções:

- Coloque 1 litro de água em uma panela.
- Despeje o conteúdo da embalagem na água fervente e mexa esporadicamente por 5 minutos.
- Caso a consistência da sopa fique muito espessa, acrescente um pouco de leite.
- Desejando um sabor mais acentuado, polvilhe queijo ralado antes de servir.

Para preparar a sopa corretamente, o consumidor deve:

- a) mexer constantemente o conteúdo da panela, acrescentar leite se houver necessidade de que a sopa fique mais cremosa e, ao final, salpicar queijo ralado.
- b) mexer constantemente o conteúdo da panela para evitar que a sopa fique espessa e não haja necessidade do acréscimo de leite e, se apreciar queijo ralado, polvilhar um pouco quando a sopa estiver pronta.
- c) mexer de vez em quando o conteúdo da panela e esperar até que o aspecto fique espesso para acrescentar leite, polvilhando queijo ralado para substituir o sal.
- d) mexer de vez em quando o conteúdo da panela e, ficando a consistência espessa, adicionar leite, não se esquecendo, também, de que se pode salpicar queijo ralado se desejar.
- e) mexer de vez em quando até que a água chegue ao ponto ideal de fervura, dissolver o conteúdo da embalagem e misturar o queijo ralado para que ele vá acentuando o sabor da sopa.

Leia o texto a seguir para responder às questões 5 e 6.

Prezada tripulação,

pedimos a atenção de todos para fato de extrema importância que se dará no dia de amanhã. Estimamos que, algumas horas depois do pequeno almoço, nosso navio cruzará a linha do Equador. Como cremos ser de conhecimento das senhoras e dos senhores, esse é um momento solene em que devemos adotar cuidados especiais. Se a passagem não for realizada com a cautela devida, corre-se o risco de a linha vir a se enrodilhar na quilha ou no leme, provocando uma parada violenta da embarcação e conseqüentemente indesejáveis quedas da tripulação. Estejam atentos!

Cordiais saudações

do Comandante Egon Schild

(STIGGER, Veronica. *Opisanie Świata*. São Paulo: SESI-SP, 2018. p.98.)


**Questão 5** – Nesse comunicado, o efeito de humor decorre da:

- a) recomendação ameaçadora aos tripulantes do navio.
- b) contradição entre o tom solene e o evento festivo.
- c) explicação fantasiosa para fenômenos naturais.
- d) desconhecimento do comandante sobre navegação.
- e) atribuição de um sentido literal à palavra “linha”.

**Questão 6** – O emprego da primeira pessoa do plural (“pedimos”, “estimamos”, “cremos”, “devemos”) é um recurso utilizado pelo enunciador para:

- a) evitar uma preocupação coletiva.
- b) falar em nome de toda a tripulação.
- c) tornar individual o conteúdo da mensagem.
- d) transferir a responsabilidade para os tripulantes.
- e) enfatizar a autoridade do comandante.

Leia o quadrinho de Laerte e responda à questão 7.



<<https://tinyurl.com/ycovkfc9>> Acesso em: 20.10.2018. Original colorido.

**Questão 7** – O quadrinho de Laerte representa uma crítica à realidade atual, visto que nele a personagem:

- a) perde sua identidade devido às pressões de um cotidiano estressante diante de uma rotina maçante e repetitiva.
- b) perde sua função social, pois o desenvolvimento de novas ferramentas mostra que ficou ultrapassado.
- c) é substituída pelas tecnologias que, de tão evoluídas, passam a assimilar hábitos corriqueiros da sociedade.
- d) perde sua identidade devido ao abandono da vida no campo, pois já não é capaz de realizar ações corriqueiras sem auxílio.
- e) possui melhor qualidade de vida, pois, ao renunciar a sua identidade, conecta-se à tecnologia para alcançar maior eficiência em suas atividades coletivas.

**Questão 8** – O artigo primeiro da Lei Federal nº 4933/1997, que trata da Política Nacional dos Recursos Hídricos, estabelece que em situações de escassez, o uso prioritário dos recursos hídricos é destinado ao consumo humano e à dessedentação de animais.

Portanto, de acordo com o artigo citado, em uma

situação de crise hídrica no Brasil, a água deve:

- a) ser colocada imediatamente e de forma gratuita, à disposição de qualquer tipo de usuário, não cabendo a aplicação do racionamento ou de rodízio.
- b) ficar armazenada em reservatórios públicos até o final da crise hídrica, quando ela poderá ser distribuída novamente para todos os consumidores.
- c) estar pronta para imediata utilização na indústria, para evitar o desabastecimento de produtos de primeira necessidade para a população.
- d) permanecer à disposição, primeiramente dos seres humanos e dos animais e, posteriormente, para outros usos.
- e) continuar a ser vendida para qualquer consumidor que possa comprá-la, pois é uma mercadoria como qualquer outra.

Leia o texto a seguir e responda às questões 9 e 10.

 Prefeitura de Saquarema  
1 de maio de 2020

Bullying não é brincadeira! nem para criança, nem para adulto. O que pode parecer uma brincadeira inocente, na verdade, causa diversos problemas físicos e psicológicos.

SE LIGA NESTA IDEIA  
**BULLYING**  
NAO É BRINCADEIRA

Se você é vítima, procure o professor e o diretor da sua escola



Frase das letras menores: “Se você é vítima, procure o professor e o diretor da sua escola.”

Disponível em:

[https://www.facebook.com/photo/?fbid=3034434783284606&set=pcb.3034438233284261&locale=pt\\_BR](https://www.facebook.com/photo/?fbid=3034434783284606&set=pcb.3034438233284261&locale=pt_BR) (acesso em 26/04/2024)

**Questão 9** – Observe a linguagem não verbal da campanha contra o bullying promovida pela Prefeitura de Saquarema. O que as sombras das crianças comunicam?

- a) Mostram a falta de interesse das crianças em participar de atividades escolares significativas para sua faixa etária.
- b) Comunicam o impacto emocional negativo do bullying, como por exemplo tristeza, desânimo e fragmentação interior.
- c) Refletem a diversidade e individualidade das crianças, destacando a presença da aceitação e inclusão no ambiente escolar.
- d) Indicam a competição saudável entre os estudantes, ao incentivar a superação de desafios e o desenvolvimento pessoal.
- e) Sinalizam a necessidade de uma abordagem mais rigorosa na disciplina escolar, para que os alunos respeitem os professores.

**Questão 10** – A respeito da campanha publicitária realizada pela Prefeitura de Saquarema, foram feitas as seguintes afirmações:

- I – Foi utilizada a linguagem informal, como lemos em “Se liga nessa ideia”.
- II – A campanha se preocupa com as consequências físicas e psicológicas do bullying.
- III – Existe um erro gramatical na parte superior da campanha, pois não foi utilizada a letra maiúscula em “nem para criança...”.

Podemos afirmar que:

- a) Somente a afirmação I é verdadeira.
- b) Somente a afirmação II é verdadeira.
- c) Somente a afirmação III é verdadeira.
- d) Somente as afirmações I e II são verdadeiras.
- e) As afirmações I, II e III são verdadeiras.

Leia o texto para responder às questões **11 e 12**.

“O humor está presente na civilização desde as sociedades mais primitivas – ele é uma capacidade que o ser humano tem de olhar a realidade e ressignificá-la, tornando-a algo engraçado e conferindo-lhe olhar crítico. No passado, ele era até uma forma de sobrevivência às adversidades e de união do grupo”, de acordo com o professor da Escola de Comunicações e Artes, Ricardo Alexino Ferreira.

Alexino conta que, a partir dos anos 40 os humoristas passaram a retratar frequentemente de forma pejorativa grupos minorizados da sociedade, como negros, mulheres, idosos e deficientes. Segundo ele, os comediantes consideraram esse humor fácil, pois muitas vezes se limitava a imitar essas pessoas. “Parte do humor se tornou sem repertório e um reforçador de estereótipos, uma caricatura do *outro*”, diz.

(Disponível em:

<http://www.jornaldocampus.usp.br/index.php/2011/10/quando-a-piada-perde-a-graca-e-vira-ofensa/> Acesso em: 08/09/2015)

**Questão 11** – Segundo o professor Ricardo Alexino Ferreira, por que parte do humor tornou-se problemática ao longo do tempo?

- a) Porque os comediantes deixaram de imitar grupos marginalizados.

- b) Porque o humor passou a ser utilizado exclusivamente como forma de crítica social.
- c) Porque o humor passou a reforçar estereótipos e caricaturas de grupos minorizados.
- d) Porque os comediantes perderam o repertório necessário para fazer piadas engraçadas.
- e) Porque o público deixou de apreciar o humor em geral.

**Questão 12** – Releia o trecho a seguir retirado do texto “História do humor”: “O humor está presente na civilização desde as sociedades mais primitivas – ele é uma capacidade que o ser humano tem de olhar a realidade e ressignificá-la, tornando-a algo engraçado e conferindo-lhe olhar crítico.”

Os pronomes “la”, “a” e “lhe” referem-se ao mesmo termo, que é:

- a) “uma capacidade”.
- b) “as sociedades”.
- c) “na civilização”.
- d) “a realidade”.
- e) “mais primitivas”.

Leia os textos a seguir e responda às questões **13 e 14**.

#### TEXTO I

*No dia 1º, o fiscal me impediu de expor na feira do Trianon. Me inscrevi em 2004, fiz teste de aptidão, paguei taxas de uso de solo e de licença, e comecei a trabalhar na semana seguinte. O juiz que cassou a liminar provavelmente nem leu o processo. Nossa advogada anexou documentos provando a legalidade dos expositores, que estão com problemas porque funcionários da Prefeitura perderam os documentos de quem fez teste em 2004. Nós, artesãos, criamos objetos*

*de arte considerados cultura no mundo todo, menos no Brasil. E, aos 63 anos, não tenho perspectiva de conseguir outro trabalho.*

José Eduardo Pires  
Vila Maria Alta

#### TEXTO II

##### A Prefeitura responde:

*Com referência à feira do Trianon, jamais houve perda de documentos. No início de 2006, a Sub Pinheiros entregou as pastas de documentação para a Sub Sé. Na análise técnica do material, viu-se que havia expositores trabalhando irregularmente, sem que as aprovações fossem publicadas no Diário Oficial da Cidade de São Paulo, obrigatórias para que a comunidade saiba quem foram os aprovados e as atividades para as quais estão autorizados.*

Andrea Matarazzo

Secretário das Subprefeituras e Subprefeito da Sé

(São Paulo Reclama. O Estado de S. Paulo, 12 de agosto de 2007, p. C2. Adaptado de: <https://www.academia.edu/29905302/Provasaresp> Acesso 04/05/2024)

**Questão 13** – Considerando-se a carta do leitor e a resposta da Prefeitura, é correto afirmar que:

- a) elas divergem quanto à origem do problema surgido com a fiscalização do trabalho.
- b) ambas apresentam a mesma opinião referente à proibição de trabalhar numa feira.
- c) o subprefeito aceita a opinião do remetente, propondo-se a autorizar seu trabalho.
- d) a opinião da advogada dos queixosos é idêntica à dos funcionários da Prefeitura.
- e) o juiz que cassou a limiar possui opinião semelhante à dos trabalhadores da feira.

**Questão 14** – A Prefeitura defende a tese de que:

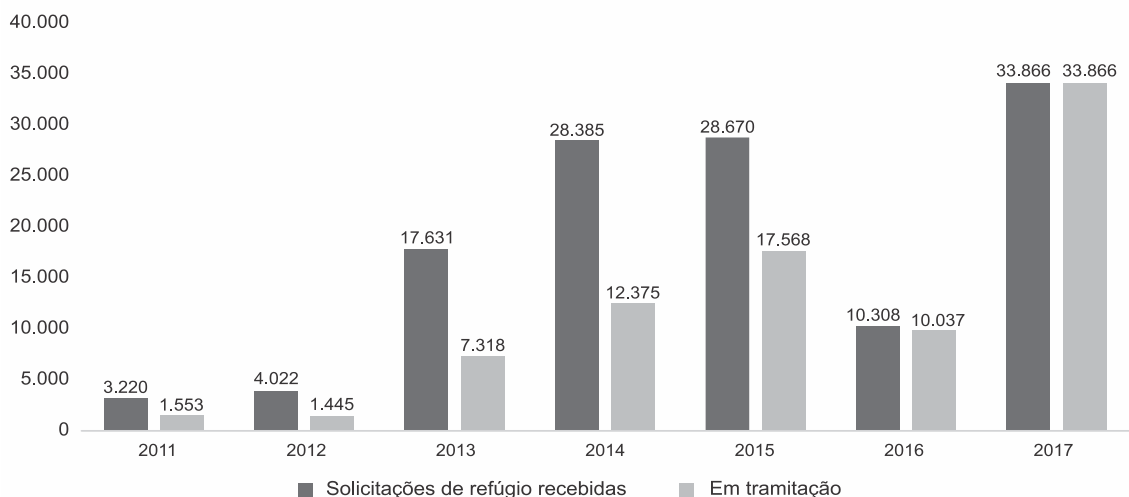
- a) os funcionários devem ser responsabilizados por terem desviado documentos, prejudicando os artesãos queixosos.
- b) os fiscais se precipitaram ao impedir o funcionamento da feira de artesanato antes de encontrarem os documentos perdidos.
- c) os requisitos legais exigidos para expor e vender

trabalhos na feira de artesanato devem ser cumpridos por todos os expositores.

- d) os artesãos queixosos aparentemente têm razão suficiente para reclamações, mas os responsáveis já estão tomando as medidas cabíveis.
- e) os trabalhadores devem iniciar todo o processo novamente e garantir as suas licenças por meio da escolha de outro juiz.

Leia o gráfico a seguir e responda à questão 15.

**NOS ÚLTIMOS 7 ANOS, O BRASIL RECEBEU 126.102 SOLICITAÇÕES DE RECONHECIMENTO DA CONDIÇÃO DE REFUGIADO**



Fonte: Polícia Federal



Fonte: Polícia Federal. Disponível em: <http://www.justica.gov.br/news/de-10-1-mil-refugiados- apenas-5-1-mil-continuam-no-brasil>. Acesso em: 23 set. 2018.

**Questão 15** – Assinale a alternativa **CORRETA**, de acordo com o gráfico.

- a) O número de solicitações de refúgio concedidas no Brasil em 2017 foi menor que o número de solicitações concedidas em 2016.
- b) 2015 foi o ano em que foi concedido o maior número de solicitações de refúgio no Brasil.
- c) Em 2016, o número de solicitações de refúgio

recebido foi igual ao número de solicitações concedidas.

- d) O número de solicitações de refúgio no Brasil diminuiu a partir de 2011.
- e) O número de solicitações de reconhecimento da condição de refugiado no Brasil aumentou em relação a 2011.

## MATEMÁTICA

**Questão 16** – Lilian precisa administrar meio comprimido ao seu gato, três vezes por dia, durante sete dias. Qual é o número mínimo de comprimidos que Lilian precisa comprar para que possa garantir o tratamento de seu gato?

- a) 9
- b) 10
- c) 11
- d) 12
- e) 13

**Questão 17** – Analisando as igualdades a seguir, podemos concluir que  $X$  vale:

$$1 + 2 + 1 = 4$$

$$1 + 2 + 3 + 2 + 1 = 9$$

$$1 + 2 + 3 + 4 + 3 + 2 + 1 = 16$$

$$1 + 2 + 3 + 4 + 5 + 4 + 3 + 2 + 1 = 25$$

⋮

$$1 + 2 + 3 + \dots + 17 + 18 + 17 + \dots + 3 + 2 + 1 = X$$

- a) 324
- b) 289
- c) 256
- d) 162
- e) 144

**Questão 18** – Sobre números naturais são feitas as seguintes afirmações:

- I. Todo número múltiplo de 4 é par.
- II. Todo número par é múltiplo de 4.

III. Existem números pares que são múltiplos de 4.

Sobre as afirmações acima, podemos dizer que:

- a) apenas I está correta.
- b) apenas II está correta.
- c) apenas III está correta.
- d) apenas I e II estão corretas.
- e) apenas I e III estão corretas.

**Questão 19** – Três linhas de ônibus diferentes,  $X$ ,  $Y$  e  $Z$ , chegam à rodoviária a cada  $6min$ ,  $8min$  e  $10min$ , respectivamente. Se às  $7h30min$ , essas três linhas chegam ao mesmo tempo na rodoviária, em qual horário do dia as três linhas chegarão novamente ao mesmo tempo nessa rodoviária?

- a)  $8h30min$
- b)  $9h30min$
- c)  $10h30min$
- d)  $11h20min$
- e)  $12h15min$

**Questão 20** – Paloma e Rodrigo são irmãos gêmeos. A metade da idade de Paloma mais um terço da idade de Rodrigo é igual a 15 anos. Qual é a idade dos gêmeos?

- a) 10 anos
- b) 12 anos
- c) 14 anos
- d) 16 anos
- e) 18 anos



**Questão 21** – Cláudia recebeu um boleto para pagamento de uma conta no valor de R\$ 500,00. Se Cláudia atrasar o pagamento, acarretará uma multa de 10% e juros de R\$ 0,36 por dia. Como pagou um acréscimo de R\$ 57,20, o número de dias de atraso é:

- a) 10
- b) 15
- c) 20
- d) 25
- e) 30

**Questão 22** – Observe a sequência de dados abaixo, em que as faces visíveis de cada um dos dados se relacionam logicamente com os números abaixo deles.

Qual deve ser o número associado ao quarto dado?



- a) 7
- b) 8
- c) 9
- d) 10
- e) 11

**Questão 23** – Com os algarismos 0,  $X$  e  $Y$ , com  $X \neq Y \neq 0$ , formam-se números de dois algarismos  $XY$  e  $YX$ , cuja soma é o número de três algarismos  $XX0$ . Portanto,  $X$  é o algarismo:

- a) 1
- b) 3
- c) 5

- d) 7
- e) 9

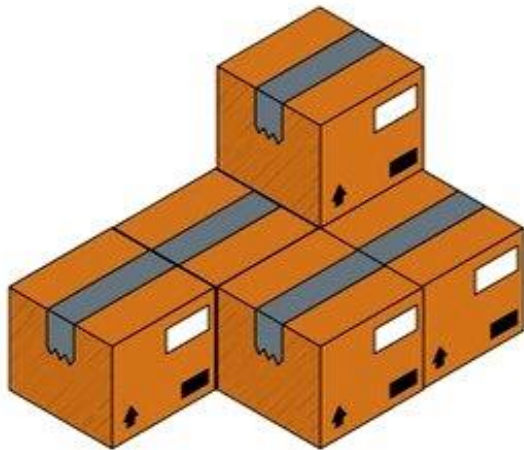
**Questão 24** – Em duas avaliações de matemática, cada uma no valor de 0 a 10 pontos, Fabiano tirou na segunda avaliação o dobro do que havia tirado na primeira. Se a média aritmética das duas notas de Fabiano foi 5,4, então a nota da primeira prova foi:

- a) 7,0
- b) 6,1
- c) 5,4
- d) 4,8
- e) 3,6

**Questão 25** – Na promoção de uma loja de eletrodomésticos, um aparelho de som que custa R\$ 400,00 tem um desconto de 12%, para pagamento à vista. Quanto o cliente que decidir comprar o equipamento, à vista, pagará?

- a) R\$ 382,00
- b) R\$ 372,00
- c) R\$ 362,00
- d) R\$ 352,00
- e) R\$ 342,00

**Questão 26** – Uma empresa que vende pela internet está encaixotando produtos para entrega. Das opções abaixo, qual corresponde à vista superior?

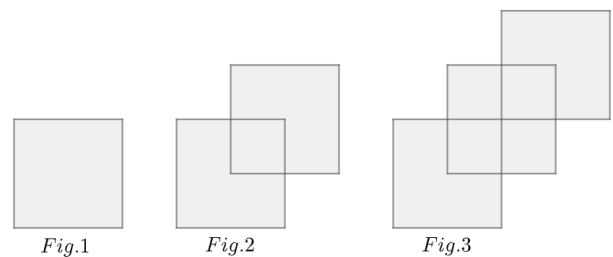


- a)
- b)
- c)
- d)
- e)

**Questão 27** – João acordou atrasado para o trabalho, e verificou que o tempo restante até o final do dia era igual à metade do tempo já decorrido do dia. Com base nessas informações, concluímos que ele acordou às:

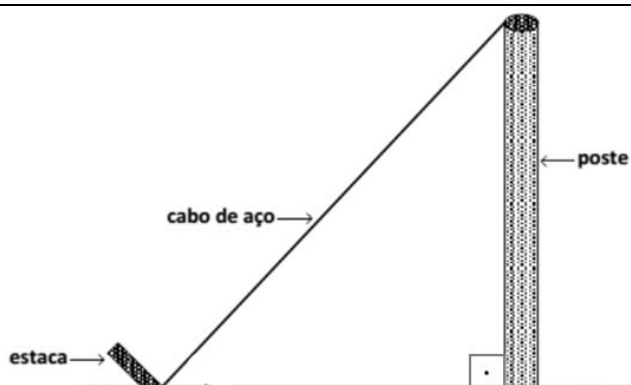
- a) 16h  
b) 14h  
c) 12h  
d) 9h  
e) 8h

**Questão 28** – Na sequência de figuras abaixo, a figura 1 é um quadrado de lado  $2\text{cm}$ , as demais figuras são formadas por quadrados iguais que se sobrepõem parcialmente, sendo os pontos médios de seus lados como pontos de interseção. Supondo que o padrão de formação das figuras se mantenha, qual será a área da figura 4?



- a) 16  
b) 15  
c) 14  
d) 13  
e) 12

**Questão 29** – Um poste com  $12\text{m}$  de altura, perpendicular ao solo, será amarrado por um cabo de aço a uma estaca, que está enterrada no chão a  $9\text{m}$  do poste. A figura a seguir ilustra um modelo desse cabo de aço.



Determine o comprimento do cabo de aço.

- a) 5m
- b) 10m
- c) 12m
- d) 15m
- e) 20m

**Questão 30** – Em uma cooperativa de artesanato são fabricadas cestas feitas de Capim Dourado. Um dia de trabalho tem um custo fixo de R\$ 150,00, mais R\$ 36,00 por cesta fabricada. Um único artesão consegue produzir um número máximo de nove cestas em um dia de trabalho. O custo total de um dia de trabalho depende do número de cestas fabricadas.

A expressão algébrica que descreve a relação entre o número de cestas, o custo de um dia de trabalho e o custo da produção de nove cestas é de

- a)  $C(n) = 150 + n$ ; R\$ 186,00
- b)  $C(n) = 150 + 36n$ ; R\$ 474,00
- c)  $C(n) = 36n$ ; R\$ 1.296,00
- d)  $C(n) = 36 + 9n$ ; R\$ 360,00
- e)  $C(n) = 9 + 36n$ ; R\$ 360,00

## CONHECIMENTOS GERAIS E ATUALIDADES

**Questão 31** - Qual fator histórico contribuiu para as tensões entre Israel e a Palestina?

- a) A presença de grupos extremistas que se opõem a qualquer acordo de paz.
- b) A disputa pela soberania sobre os locais sagrados em Jerusalém.
- c) A falta de reconhecimento mútuo dos direitos e identidades nacionais.
- d) A escassez de recursos naturais, como água e terra.
- e) As divergências históricas em relação à criação do Estado de Israel.

**Questão 32** - Considerando a importância dos Jogos Olímpicos de 2020, que foram adiados devido à pandemia de COVID-19, em que país ocorreu a realização desses Jogos em 2021, após um grande investimento em infraestrutura e tecnologia, incluindo avanços em telecomunicações?

- a) Brasil
- b) Estados Unidos
- c) Japão
- d) França
- e) China

**Questão 33** - Em agosto de 2020, uma empresa de tecnologia se tornou a primeira a atingir uma avaliação de mercado de 2 trilhões de dólares, impulsionada por avanços na inteligência artificial e na economia digital. Qual é o nome dessa empresa, que muitos associam erroneamente a avanços em redes sociais?

- a) Amazon
- b) Apple
- c) Google
- d) Facebook
- e) Microsoft

**Questão 34** - Qual das seguintes medidas está em conformidade com a Lei Geral de Proteção de Dados (LGPD) e é uma prática recomendada para garantir a segurança cibernética em uma empresa?

- a) Manter uma única senha para todos os funcionários acessarem os sistemas da empresa, facilitando o gerenciamento de acessos.
- b) Permitir que os funcionários usem dispositivos pessoais para acessar e armazenar informações confidenciais dos clientes, sem restrições.
- c) Armazenar todas as informações dos clientes em um servidor público, para facilitar o acesso de qualquer funcionário que precise delas.
- d) Compartilhar livremente informações pessoais dos clientes com parceiros comerciais, mesmo sem consentimento explícito, para promover a colaboração.
- e) Criptografar todos os dados sensíveis dos clientes durante a transmissão e armazenamento, a fim de protegê-los contra acessos não autorizados.

**Questão 35** - Você está conversando com um assistente virtual em seu smartphone, pedindo para ele definir palavras difíceis. Ele sempre parece entender o que você está perguntando e fornece definições precisas. Como o assistente virtual consegue entender suas perguntas e fornecer respostas corretas?

- a) Ele tem acesso a uma grande equipe de pessoas que respondem às suas perguntas.
- b) Ele consulta uma enciclopédia online sempre que você faz uma pergunta.
- c) Ele foi treinado por especialistas em linguagem natural para compreender e responder perguntas.
- d) Ele adivinha as respostas com base nas palavras-chave de suas perguntas.
- e) Ele usa magia para encontrar as respostas.

**Questão 36** - Ao preencher formulários em diversas situações, como inscrições em concursos públicos, cadastros em instituições de ensino ou em documentos oficiais, é comum deparar-se com a sigla "UF" ao lado do campo "Estado".

Qual o significado da sigla "UF" frequentemente encontrada em formulários no Brasil?

- a) União Federal
- b) Unidade Federal
- c) União dos Estados
- d) Unidade da Federação
- e) Unidade Física

**Questão 37** - Durante uma investigação sobre exploração humana em uma determinada região, foram identificadas diversas formas de escravidão moderna, incluindo trabalho forçado em fábricas clandestinas, tráfico humano para exploração sexual e servidão por dívida. No entanto, ao analisar mais detalhadamente as condições de trabalho em uma empresa aparentemente legal, descobriu-se que os trabalhadores, embora formalmente empregados, estavam sujeitos a condições de trabalho degradantes e recebiam salários mínimos,

insuficientes para suprir suas necessidades básicas.

Diante desse contexto, qual dos seguintes aspectos NÃO caracteriza a escravidão moderna?

a) Restrição da liberdade dos trabalhadores, impedindo-os de sair livremente do local de trabalho ou de buscar oportunidades melhores.

b) Condições de trabalho degradantes, incluindo jornadas exaustivas, falta de segurança no ambiente de trabalho e ausência de condições básicas de higiene.

c) Salários abaixo do mínimo legal, que resultam em uma situação de vulnerabilidade econômica e dependência dos trabalhadores em relação aos empregadores.

d) Ausência de contrato de trabalho formal, onde os trabalhadores são contratados informalmente e não possuem nenhum tipo de proteção legal.

e) Oferta de treinamento e capacitação profissional para os trabalhadores, visando melhorar suas habilidades e oportunidades de emprego futuro.

**Questão 38** - Em um país fictício chamado Veredania, recentemente houve um intenso debate sobre a regulamentação da liberdade de expressão na internet. Muitos cidadãos argumentam que medidas mais rígidas são necessárias para conter a disseminação de discursos de ódio online, enquanto outros defendem que isso poderia restringir a liberdade de expressão. Nesse contexto, qual das seguintes afirmações melhor reflete um aspecto essencial da liberdade de expressão?

a) A liberdade de expressão deve ser limitada para proteger grupos vulneráveis de discursos prejudiciais.

b) Qualquer forma de discurso que possa ser considerada ofensiva deve ser proibida por lei.

c) A liberdade de expressão é um direito absoluto e não deve sofrer qualquer tipo de restrição.

d) O governo deve controlar estritamente o que é dito online para evitar conflitos e desordem.

e) A liberdade de expressão deve ser exercida com responsabilidade, respeitando os direitos e a dignidade dos outros.

**Questão 39** - Qual é o nome do programa do governo federal lançado em janeiro de 2024 com o intuito de promover a permanência e a conclusão escolar de estudantes matriculados no ensino médio público?

a) Bolsa Família

b) Pé-de-Meia

c) ProUni

d) FIES

e) Ciência sem Fronteiras

**Questão 40** - Qual dos seguintes fatores contribuiu para a tragédia climática causada pelas chuvas intensas no Rio Grande do Sul?

a) A atuação de pelo menos três fenômenos meteorológicos (Cavado, Corredor de Umidade da Amazônia e um Bloqueio Atmosférico), agravados pelas mudanças no clima

b) A falta de alertas emitidos pelo Instituto Nacional de Meteorologia.

c) A ausência de sistemas de drenagem adequados nas cidades afetadas.

d) A presença de um bloqueio atmosférico que impediu a formação de nuvens de chuva.

e) A combinação de um ciclone extratropical com uma área de baixa pressão na alta atmosfera, resultando em chuvas intensas e vendavais.